


Name: _____

A. I.


NOTE: In each section, do NOT connect the last point back to first point.

(X, Y)


- (1, -20)
- (1, -19)
- (3, -18)
- (5, -18)
- (7, -19)
- (7, -20)
- (1, -20)




- (-1, -20)
- (-1, -19)
- (-3, -18)
- (-5, -18)
- (-7, -19)
- (-7, -20)
- (-1, -20)



- (3, -14)
- (5, -14)
- (6, -13)
- (6, -12)
- (5, -11)
- (3, -11)
- (2, -12)
- (2, -13)
- (3, -14)




- (-3, -14)
- (-5, -14)
- (-6, -13)
- (-6, -12)
- (-5, -11)
- (-3, -11)
- (-2, -12)
- (-2, -13)
- (-3, -14)




(X, Y)


- (2, -5)
- (5, -2)
- (6, -2)
- (6, -8)
- (5, -9)
- (3, -9)
- (2, -8)
- (2, -5)




- (-2, -5)
- (-5, -2)
- (-6, -2)
- (-6, -8)
- (-5, -9)
- (-3, -9)
- (-2, -8)
- (-2, -5)



- (1, -4)
- (4, -1)
- (4, 1)
- (-4, 1)
- (-4, -1)
- (-1, -4)
- (1, -4)




- (-3, 4)
- (-5, 8)
- (-5, 12)
- (5, 12)
- (5, 8)
- (3, 4)
- (-3, 4)




(X, Y)


- (3, 19)
- (-3, 19)
- (-4, 18)
- (-4, 14)
- (-3, 13)
- (3, 13)
- (4, 14)
- (4, 18)
- (3, 19)




- (-6, 11)
- (-7, 12)
- (-9, 12)
- (-10, 11)
- (-10, 9)
- (-9, 8)
- (-7, 8)
- (-6, 9)
- (-6, 11)




- (6, 11)
- (7, 12)
- (9, 12)
- (10, 11)
- (10, 9)
- (9, 8)
- (7, 8)
- (6, 9)
- (6, 11)



- (-2, 19)
- (-2, 20)
- (2, 20)
- (2, 19)




- (2, 4)
- (2, 1)




(X, Y)


- (-6, 6)
- (-7, 7)
- (-9, 7)
- (-10, 6)
- (-10, 5)
- (-9, 4)
- (-7, 4)
- (-6, 5)
- (-6, 6)




- (6, 6)
- (7, 7)
- (9, 7)
- (10, 6)
- (10, 5)
- (9, 4)
- (7, 4)
- (6, 5)
- (6, 6)



- (6, 1)
- (6, -1)
- (7, -1)
- (7, 0)
- (8, 1)
- (9, 0)
- (9, -2)
- (10, -2)
- (10, 1)
- (9, 2)
- (7, 2)
- (6, 1)




- (2, 15)
- (2, 14)
- (-2, 14)
- (-2, 15)
- (2, 15)




(X, Y)


- (-6, 1)
- (-6, -1)
- (-7, -1)
- (-7, 0)
- (-8, 1)
- (-9, 0)
- (-9, -2)
- (-10, -2)
- (-10, 1)
- (-9, 2)
- (-7, 2)
- (-6, 1)




- (1, 16)
- (3, 16)
- (3, 18)
- (1, 18)
- (1, 16)




- (-1, 16)
- (-3, 16)
- (-3, 18)
- (-1, 18)
- (-1, 16)



- (-3, 11)
- (-3, 8)
- (3, 8)
- (3, 11)
- (-3, 11)



- (-2, 4)
- (-2, 1)



Now color your picture.

